

Vocabulaire

|   |                       |   |               |
|---|-----------------------|---|---------------|
|  | QUELLE HEURE EST-IL ? |  | IL EST ...    |
|  | HEURE                 |  | MINUTE        |
|  | ET QUART              |  | ET DEMIE      |
|  | MOINS LE QUART        |  | MIDI / MINUIT |



Vocabulaire : lire l'heure

- 13 h = 1 h (de l'après-midi)      14 h = 2 h (de l'après-midi)
- Heures spéciales

|               |                                      |
|---------------|--------------------------------------|
| 2 h <b>15</b> | deux heures <b>et quart</b>          |
| 2 h <b>35</b> | trois heures <b>moins vingt-cinq</b> |
| 2 h <b>45</b> | trois heures <b>moins le quart</b>   |
| 2 h <b>55</b> | trois heures <b>moins cinq</b>       |

|               |                                 |
|---------------|---------------------------------|
| 2 h <b>30</b> | deux heures <b>et demie</b>     |
| 2 h <b>40</b> | trois heures <b>moins vingt</b> |
| 2 h <b>50</b> | trois heures <b>moins dix</b>   |

**1 - Écris en lettres l'heure indiquée par chaque horloge.**



|  |       |
|--|-------|
|  | ..... |
|  | ..... |
|  | ..... |
|  | ..... |
|  | ..... |

2 - Relie chaque horloge à l'heure écrite en lettres.



deux heures moins le quart



neuf heures et demie



midi dix-huit



dix-sept heures quinze



onze heures moins cinq

3 - Écoute chaque phrase et écris l'heure que tu entends en chiffres.

a) .....

b) .....

c) .....

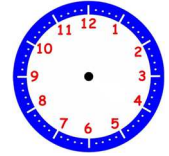
d) .....

e) .....

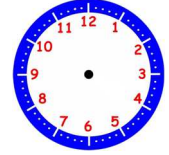
f) .....

4 - Écris les heures en chiffres puis place les aiguilles dans l'horloge.

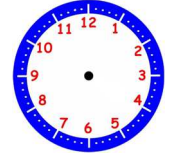
a) vingt-deux heures trente → .....



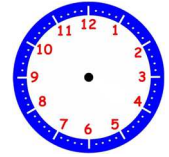
b) sept heures moins le quart → .....



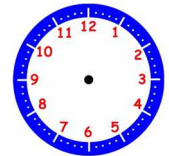
c) minuit et demie → .....



d) onze heures moins cinq → .....



e) deux heures et quart → .....



5 - Écoute le texte et remplis l'emploi du temps avec le nom des matières.

|       | Lundi | Mardi |
|-------|-------|-------|
| 7h55  |       |       |
| 8h50  |       |       |
| 10h10 |       |       |
| 11h05 |       |       |

|       |  |  |
|-------|--|--|
| 13h30 |  |  |
| 14h25 |  |  |
| 15h45 |  |  |

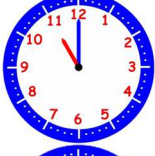
1 - Écris en lettres l'heure indiquée par chaque horloge.




quatre heures vingt



sept heures cinquante  
huit heures moins dix



onze heures  
vingt-trois heures



minuit et demie  
midi et demie  
douze heures trente



six heures trente-cinq  
sept heures moins vingt-cinq

2 - Relie chaque horloge à l'heure écrite en lettres.



deux heures moins le quart

neuf heures et demie

midi dix-huit

dix-sept heures quinze

onze heures moins cinq

**3 - Écoute chaque phrase et écris l'heure que tu entends en chiffres.**

a) **5 h 30**

b) **11 h 26**

c) **9 h 15**

d) **16 h 20**

e) **13 h 50**

f) **9 h 35**

**4 - Écris les heures en chiffres puis place les aiguilles dans l'horloge.**

a) vingt-deux heures trente → **22 h 30**

b) sept heures moins le quart → **6 h 45**

c) minuit et demie → **0 h 30**

d) onze heures moins cinq → **10 h 55**

e) deux heures et quart → **2 h 15**

**5 - Écoute le texte et remplis l'emploi du temps avec le nom des matières.**

|              | <b>Lundi</b>         | <b>Mardi</b>         |
|--------------|----------------------|----------------------|
| <i>7h55</i>  |                      | <b>Sport</b>         |
| <i>8h50</i>  | <b>Mathématiques</b> | <b>Sport</b>         |
| <i>10h10</i> | <b>Français</b>      | <b>Mathématiques</b> |
| <i>11h05</i> |                      | <b>Français</b>      |

|              |                 |                 |
|--------------|-----------------|-----------------|
| <i>13h30</i> | <b>Histoire</b> | <b>Italien</b>  |
| <i>14h25</i> | <b>Anglais</b>  | <b>Sciences</b> |
| <i>15h45</i> |                 |                 |