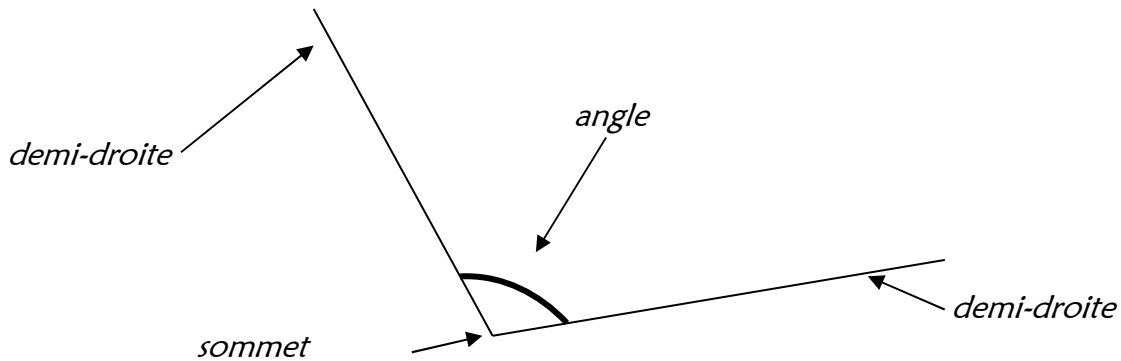




<i>Je sais ma leçon si...</i>	
MES 9	❶ <i>Je sais ce qu'est un angle.</i>
	❷ <i>Je sais vérifier qu'un angle est droit.</i>
	❸ <i>Je sais vérifier qu'un angle est aigu ou obtus.</i>
	❹ <i>Je sais comparer des angles.</i>

Un angle est une surface délimitée par deux demi-droites de même origine.

Les demi-droites sont les **côtés** de l'angle. Leur origine est le **sommet** de l'angle.



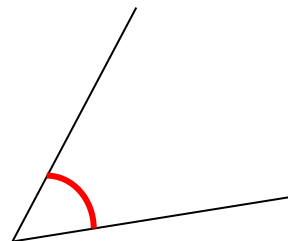
L'angle droit

C'est l'angle que forme l'équerre.



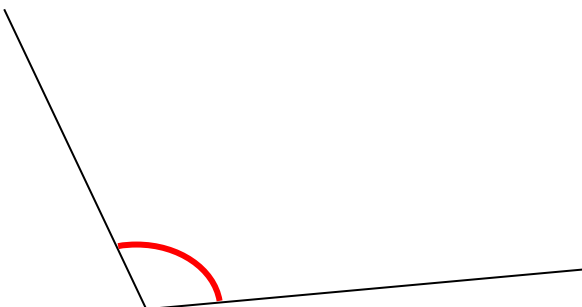
L'angle aigu

C'est un angle plus petit qu'un angle droit.



L'angle obtus

C'est un angle plus grand que l'angle droit.



L'angle plat

C'est un angle totalement ouvert.

