


SCIENCES 3	n°	Compétence	Score	Évaluation				Signature
	1	Je sais ce qu'est le système solaire.	/3	A	AR	ECA	NA	
	2	Je connais le nom des planètes du système solaire.	/9	A	AR	ECA	NA	
	3	Je connais des informations sur le mouvement des planètes dans le système solaire.	/3	A	AR	ECA	NA	

1 - Sur ton cahier, réponds aux questions suivantes. [3 réponses]

- Qu'est-ce que l'Univers ?
- Comment s'appelle notre galaxie ?
- Comment s'appelle l'élément qui est au centre de notre système solaire ?

2 - Sur cette feuille, complète le schéma suivant en indiquant le nom des 8 planètes du système solaire, et de l'étoile. [9 réponses]



Le système solaire et ses planètes.

3 - Sur ton cahier, recopie et complète les phrases suivantes. [3 réponses]

- Chaque planète tourne sur elle-même, on dit qu'elle fait une
- Chaque planète tourne autour du soleil, on dit qu'elle fait une
- Toutes les planètes tournent à peu près sur un même plan : le plan de



SCIENCES 13	n°	Compétence	Score	Évaluation				Signature
	1	Je sais ce qu'est le système solaire.	/3	A	AR	ECA	NA	
	2	Je connais le nom des planètes du système solaire.	/9	A	AR	ECA	NA	
	3	Je connais des informations sur le mouvement des planètes dans le système solaire.	/3	A	AR	ECA	NA	

1 - Réponds aux questions suivantes. [3 réponses]

a) Qu'est-ce que l'Univers ?

⇒ L'univers est

.....


b) Comment s'appelle notre galaxie ?

⇒ Notre galaxie s'appelle la

c) Comment s'appelle l'élément qui est au centre de notre système solaire ?

⇒ Au centre de notre système solaire, il y a

2 - Complète le schéma suivant en indiquant le nom des 8 planètes du système solaire, et de l'étoile. [9 réponses]



Le système solaire et ses planètes.

3 - Complète les phrases suivantes. [3 réponses]

a) Chaque planète tourne sur elle-même, on dit qu'elle fait une

..... .

b) Chaque planète tourne autour du soleil, on dit qu'elle fait une

..... .

c) Toutes les planètes tournent à peu près sur un même plan : le plan de

..... .

SCIENCES 3	n°	Compétence	Score	Évaluation				Signature
	1	Je sais ce qu'est le système solaire.	/3	A	AR	ECA	NA	
	2	Je connais le nom des planètes du système solaire.	/9	A	AR	ECA	NA	
	3	Je connais des informations sur le mouvement des planètes dans le système solaire.	/3	A	AR	ECA	NA	

1 - Sur ton cahier, réponds aux questions suivantes. [3 réponses]

a) Qu'est-ce que l'Univers ?

⇒ **Ensemble de tout ce qui existe dans l'espace.**


b) Comment s'appelle notre galaxie ?

⇒ **La voie lactée.**

c) Comment s'appelle l'élément qui est au centre de notre système solaire ?

⇒ **Le soleil.**

2 - Sur cette feuille, complète le schéma suivant en indiquant le nom des 8 planètes du système solaire, et de l'étoile. [9 réponses]



Le système solaire et ses planètes.

3 - Sur ton cahier, recopie et complète les phrases suivantes. [3 réponses]

a) Chaque planète tourne sur elle-même, on dit qu'elle fait une **rotation**.

b) Chaque planète tourne autour du soleil, on dit qu'elle fait une **révolution**.

c) Toutes les planètes tournent à peu près sur un même plan : le plan de **l'écliptique**.