


Évaluation de sciences CM1/CM2, leçon **SCIENCES 4** « La Lune »

SCIENCES 4	n°	Compétence	Score	Évaluation				Signature
	1	Je connais des informations sur la Lune.	/3	A	AR	ECA	NA	
2	Je connais le nom des phases de la Lune.	/5	A	AR	ECA	NA		

1 - Sur ton cahier, réponds aux questions suivantes. [3 réponses]

- La Lune est un satellite de la Terre. Qu'est-ce que cela signifie ?
- De quoi la Lune est-elle composée ?
- Combien de temps la Lune met-elle pour faire le tour de la Terre ?

2 - Sur cette feuille, indique le nom des différentes phases de la Lune. [5 réponses]



--	--	--	--	--


Évaluation de sciences CM1/CM2, leçon **SCIENCES 4** « La Lune »

SCIENCES 4	n°	Compétence	Score	Évaluation				Signature
	1	Je connais des informations sur la Lune.	/3	A	AR	ECA	NA	
2	Je connais le nom des phases de la Lune.	/5	A	AR	ECA	NA		

1 - Sur ton cahier, réponds aux questions suivantes. [3 réponses]

- La Lune est un satellite de la Terre. Qu'est-ce que cela signifie ?
- De quoi la Lune est-elle composée ?
- Combien de temps la Lune met-elle pour faire le tour de la Terre ?

2 - Sur cette feuille, indique le nom des différentes phases de la Lune. [5 réponses]



--	--	--	--	--



SCIENCES 4	n°	Compétence	Score	Évaluation				Signature
	1	Je connais des informations sur la Lune.	/3	A	AR	ECA	NA	
2	Je connais le nom des phases de la Lune.	/5	A	AR	ECA	NA		

**1 - Réponds aux questions suivantes.** [3 réponses]

a) La Lune est un satellite de la Terre. Qu'est-ce que cela signifie ?

⇒ Cela signifie que la Lune .....

.....

b) De quoi la Lune est-elle composée ?

⇒ La Lune est composée .....

c) Combien de temps la Lune met-elle pour faire le tour de la Terre ?

⇒ Pour faire un tour de la Terre, la Lune met .....

**2 - Indique le nom des différentes phases de la Lune.** [5 réponses]



--	--	--	--	--

SCIENCES 4	n°	Compétence	Score	Évaluation				Signature
	1	Je connais des informations sur la Lune.	/3	A	AR	ECA	NA	
2	Je connais le nom des phases de la Lune.	/5	A	AR	ECA	NA		

1 - Sur ton cahier, réponds aux questions suivantes. [3 réponses]

a) La Lune est un satellite de la Terre. Qu'est-ce que cela signifie ?

⇒ **Que la Lune tourne autour de la Terre.**


b) De quoi la Lune est-elle composée ?

⇒ **De roche.**

c) Combien de temps la Lune met-elle pour faire le tour de la Terre ?

⇒ **29 jours.**

2 - Sur cette feuille, indique le nom des différentes phases de la Lune. [5 réponses]



**Nouvelle Lune**

**Croissant**

**Quartier**

**Gibbeuse**

**Pleine Lune**