



<i>Je sais ma leçon si...</i>	
GEOM 8	❶ <i>Je sais reconnaître et nommer les quadrilatères particuliers.</i>
	❷ <i>Je sais décrire les quadrilatères particuliers.</i>
	❸ <i>Je sais tracer les quadrilatères particuliers.</i>

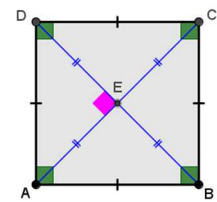
Définition

Un quadrilatère est un **polygone qui a quatre côtés et quatre sommets**.
Il a **quatre angles** et **deux diagonales**.

Les quadrilatères particuliers

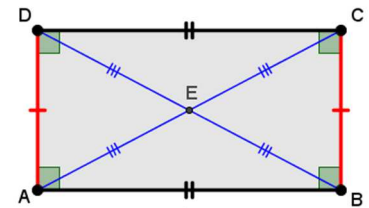
Le carré

- Il a :
- 4 côtés égaux ;
 - des côtés opposés parallèles ;
 - 4 angles droits ;
 - des diagonales égales, perpendiculaires et qui se coupent en leur milieu.



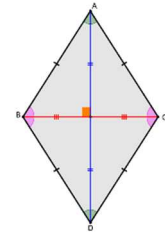
Le rectangle

- Il a :
- des côtés opposés égaux et parallèles ;
 - 4 angles droits ;
 - des diagonales égales et qui se coupent en leur milieu.



Le losange

- Il a :
- 4 côtés égaux ;
 - des côtés opposés parallèles ;
 - des diagonales perpendiculaires et qui se coupent en leur milieu.



Le parallélogramme

- Il a :
- des côtés opposés égaux et parallèles ;
 - des diagonales qui se coupent en leur milieu.

