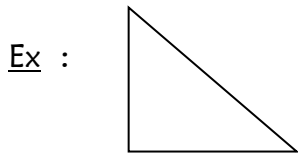


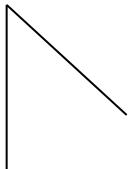


<i>Je sais ma leçon si...</i>	
GEOM 7	❶ <i>Je sais reconnaître un polygone.</i>
	❷ <i>Je sais nommer quelques polygones.</i>

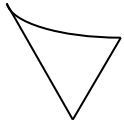
Un polygone est une **figure géométrique** qui a **plusieurs côtés**. C'est une **ligne brisée fermée**, il n'a **pas de courbe**.



C'est une ligne brisée sans courbe : c'est **un polygone**.

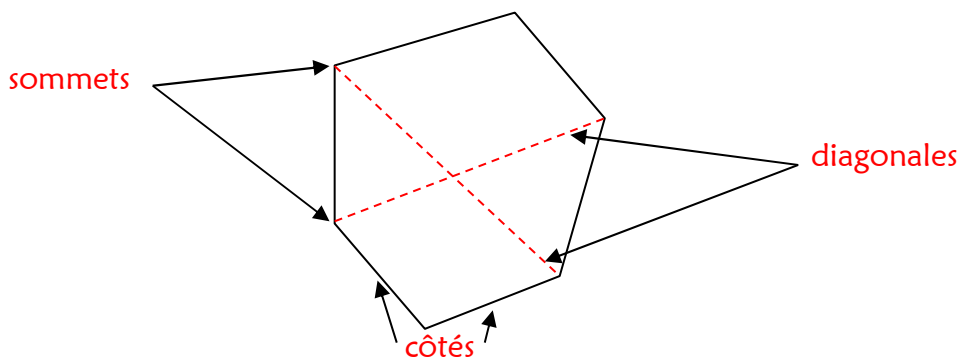


C'est une ligne brisée ouverte : ce n'est **pas un polygone**.

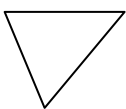


Il y a une courbe : ce n'est **pas un polygone**.

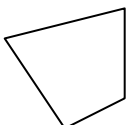
Vocabulaire



Quelques polygones



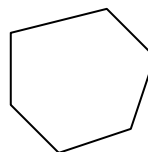
Triangle
(3 côtés)



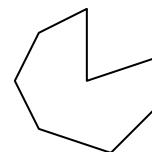
Quadrilatère
(4 côtés)



Pentagone
(5 côtés)



Hexagone
(6 côtés)



Octogone
(8 côtés)