

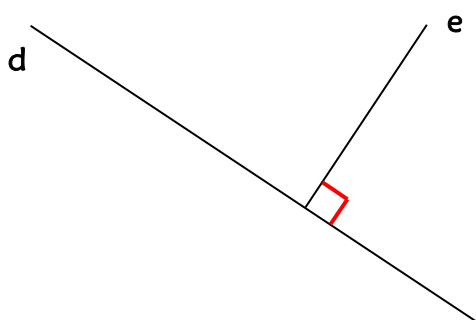


<i>Je sais ma leçon si...</i>	
GEOM 5	❶ <i>Je sais vérifier si deux droites sont perpendiculaires.</i>
	❷ <i>Je sais tracer deux droites perpendiculaires.</i>
	❸ <i>Je sais repérer des angles droits dans une figure plane.</i>

Définition.

Ce sont 2 droites qui se coupent à **angle droit**.

On écrit : $d \perp e$ (d est perpendiculaire à e).




Vérifier si des droites sont perpendiculaires.

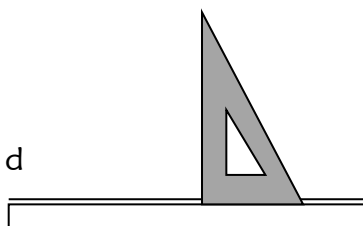
Il suffit d'utiliser **l'angle droit de l'équerre**.

Tracer des droites perpendiculaires.

1) Je pose ma règle et je trace d.



2) Je place l'équerre contre la règle sans bouger.



3) Je trace e.

