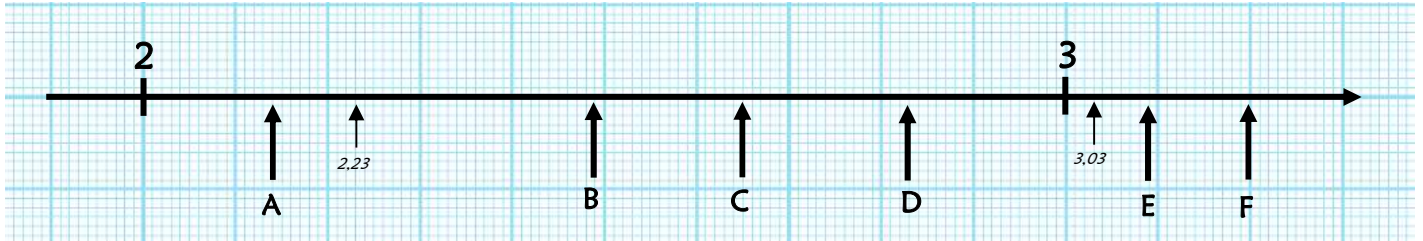


Évaluation de numération CM1, leçons **NUM 18** « Placer et encadrer les décimaux »

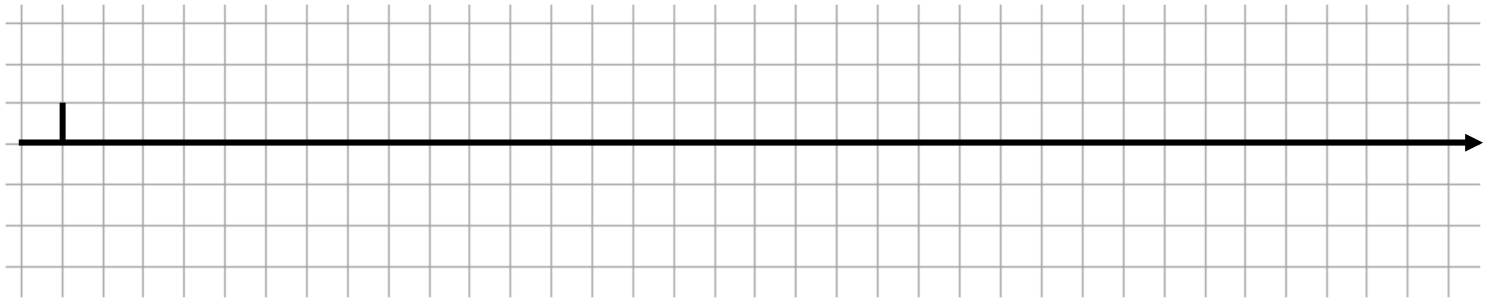
NUM 18	n°	Compétence	Score	Évaluation				Signature
	1	Je sais repérer un nombre décimal sur une droite.	/6	A	AR	ECA	NA	
2	Je sais placer un nombre décimal sur une droite.	/6	A	AR	ECA	NA		

1 - Sur ton cahier, indique le nombre correspondant à chacune des lettres. [6 réponses]



2 - Sur cette feuille, gradue la droite en dixièmes, de 1 à 4, puis place les nombres suivants. [6 réponses]

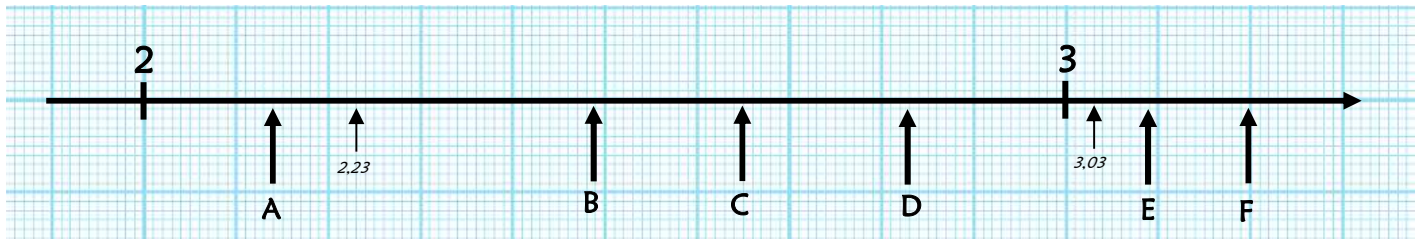
2,1 / 4,3 / 1,7 / 3,6 / 1,1 / 2,9





NUM 18	n°	Compétence	Score	Évaluation				Signature
	1	Je sais repérer un nombre décimal sur une droite.	/6	A	AR	ECA	NA	
2	Je sais placer un nombre décimal sur une droite.	/6	A	AR	ECA	NA		

1 - Indique le nombre correspondant à chacune des lettres. [6 réponses]



A ⇒

D ⇒

B ⇒

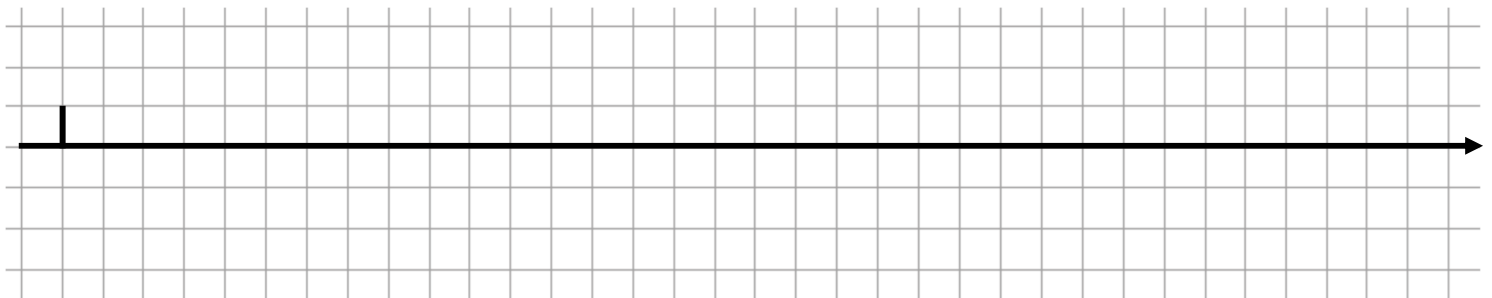
E ⇒

C ⇒

F ⇒

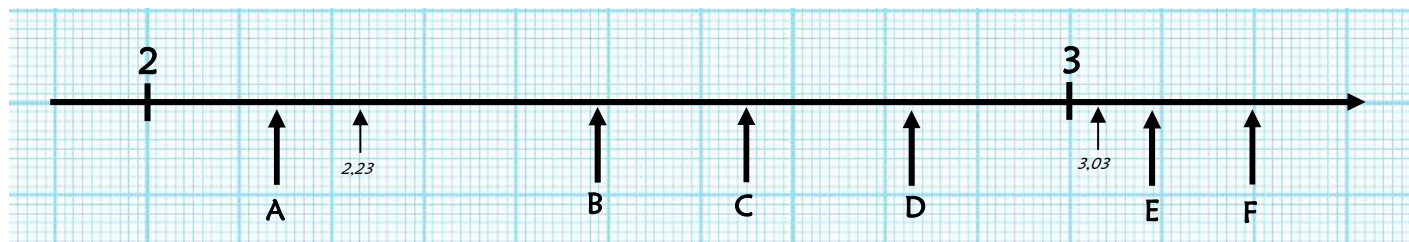
2 - Gradue la droite en dixièmes, de 1 à 4, puis place les nombres suivants. [6 réponses]

2,1 / 4,3 / 1,7 / 3,6 / 1,1 / 2,9



NUM 18	n°	Compétence	Score	Évaluation				Signature
	1	Je sais repérer un nombre décimal sur une droite.	/6	A	AR	ECA	NA	
2	Je sais placer un nombre décimal sur une droite.	/6	A	AR	ECA	NA		

1 - Sur ton cahier, indique le nombre correspondant à chacune des lettres. [6 réponses]



- A ⇒ 2,14
- B ⇒ 2,49
- C ⇒ 2,65
- D ⇒ 2,83
- E ⇒ 3,09
- F ⇒ 3,20

2 - Sur cette feuille, gradue la droite en dixièmes, de 1 à 4, puis place les nombres suivants. [6 réponses]

2,1 / 4,3 / 1,7 / 3,6 / 1,1 / 2,9

