

Évaluation de numération CM1, leçons **NUM 14** « Les décimaux »

NUM 14	n°	Compétence	Score	Évaluation				Signature
	1	Je sais écrire un nombre décimal en chiffres.	/4	A	AR	ECA	NA	
	2	Je sais lire un nombre décimal.	/4	A	AR	ECA	NA	
	3	Je sais repérer la partie entière et la partie décimale d'un nombre décimal.	/4	A	AR	ECA	NA	
	4	Je connais le nom des colonnes de la partie décimale.	/3	A	AR	ECA	NA	

1 - Sur ton cahier, écris les nombres suivants en chiffres. [4 réponses]

- | | |
|---|------------------------------------|
| a) onze unités et trois dixièmes | c) quatre unités et onze centièmes |
| b) une unité et cent-vingt-huit millièmes | d) deux unités et trois centièmes |

2 - Sur cette feuille, relie chaque nombre à son écriture en lettres. [4 réponses]

- | | | | |
|-------|-----------------------|-----------------------|---|
| 2,05 | <input type="radio"/> | <input type="radio"/> | vingt-cinq centièmes |
| 2,5 | <input type="radio"/> | <input type="radio"/> | deux unités et cinq centièmes |
| 0,25 | <input type="radio"/> | <input type="radio"/> | deux unités et deux-cent-cinq millièmes |
| 2,205 | <input type="radio"/> | <input type="radio"/> | deux unités et cinq dixièmes |

3 - Sur ton cahier, recopie chaque nombre : écris la partie entière en bleu et la partie décimale en rouge. [4 réponses]

- | | | | |
|---------|----------|-------|---------|
| a) 2,14 | b) 3,006 | c) 25 | d) 0,78 |
|---------|----------|-------|---------|

4 - Sur ton cahier, pour chaque nombre, indique dans quelle colonne se trouve le chiffre 6. [3 réponses]

Ex : 2,614 → dixièmes

- | | | |
|---------|---------|----------|
| a) 16,7 | b) 3,46 | c) 0,126 |
|---------|---------|----------|



	n°	Compétence	Score	Évaluation				Signature
				A	AR	ECA	NA	
NUM 14	1	Je sais écrire un nombre décimal en chiffres.	/4	A	AR	ECA	NA	
	2	Je sais lire un nombre décimal.	/4	A	AR	ECA	NA	
	3	Je sais repérer la partie entière et la partie décimale d'un nombre décimal.	/4	A	AR	ECA	NA	
	4	Je connais le nom des colonnes de la partie décimale.	/3	A	AR	ECA	NA	

1 - Écris les nombres suivants en chiffres. [4 réponses]

- a) onze unités et trois dixièmes \Rightarrow
- b) une unité et cent-vingt-huit millièmes \Rightarrow
- c) quatre unités et onze centièmes \Rightarrow
- d) deux unités et trois centièmes \Rightarrow

2 - Relie chaque nombre à son écriture en lettres. [4 réponses]

- | | |
|-----------------------------|---|
| 2,05 <input type="radio"/> | vingt-cinq centièmes <input type="radio"/> |
| 2,5 <input type="radio"/> | deux unités et cinq centièmes <input type="radio"/> |
| 0,25 <input type="radio"/> | deux unités et deux-cent-cinq millièmes <input type="radio"/> |
| 2,205 <input type="radio"/> | deux unités et cinq dixièmes <input type="radio"/> |

3 - Entoure la partie entière en bleu et la partie décimale en rouge. [4 réponses]

- a) 2 , 14 b) 3 , 0 0 6 c) 2 5 d) 0 , 7 8

4 - Pour chaque nombre, indique dans quelle colonne se trouve le chiffre 6. [3 réponses]

Ex : 2,614 \Rightarrow dixièmes





- a) 16,7 \Rightarrow
- b) 3,46 \Rightarrow
- c) 0,126 \Rightarrow

NUM 14	n°	Compétence	Score	Évaluation				Signature
	1	Je sais écrire un nombre décimal en chiffres.	/4	A	AR	ECA	NA	
	2	Je sais lire un nombre décimal.	/4	A	AR	ECA	NA	
	3	Je sais repérer la partie entière et la partie décimale d'un nombre décimal.	/4	A	AR	ECA	NA	
	4	Je connais le nom des colonnes de la partie décimale.	/3	A	AR	ECA	NA	

1 - Sur ton cahier, écris les nombres suivants en chiffres. [4 réponses]

- a) onze unités et trois dixièmes ⇒ **11,3**
- b) une unité et cent-vingt-huit millièmes ⇒ **1,128**
- c) quatre unités et onze centièmes ⇒ **4,11**
- d) deux unités et trois centièmes ⇒ **2,03**

2 - Sur cette feuille, relie chaque nombre à son écriture en lettres. [4 réponses]

2,05		vingt-cinq centièmes
2,5		deux unités et cinq centièmes
0,25		deux unités et deux-cent-cinq millièmes
2,205		deux unités et cinq dixièmes

3 - Sur ton cahier, recopie chaque nombre : écris la partie entière en bleu et la partie décimale en rouge. [4 réponses]

- a) **2,14** b) **3,006** c) **25** d) **0,78**

4 - Sur ton cahier, pour chaque nombre, indique dans quelle colonne se trouve le chiffre 6. [3 réponses]

Ex : 2,614 → dixièmes

- a) 16,7 ⇒ **unités**
- b) 3,46 ⇒ **centièmes**
- c) 0,126 ⇒ **millièmes**